

2024年度 入学試験問題

算 数

(60分)

〔注意〕

- ① 問題は1~4まであります。
- ② 解答用紙はこの問題冊子の間にはさんであります。
- ③ 解答用紙には受験番号と氏名を必ず記入のこと。
- ④ 各問題とも解答は解答用紙の所定のところへ記入のこと。

西大和学園中学校

※切りはなしてはいけません。

1 次の にあてはまる数を答えなさい。

(1) $\left(\frac{2024}{2025} \times 10.125 - 7\right) \times \frac{4}{13} = \text{$

(2) $\left\{(20 \div 2 + 4) \div \text{$ $\right\} \times \frac{8}{7} = 8 + 11 + 23$

(3) 学年全体の生徒を組分けします。最初に7人1組にしようとすると、3組だけ8人1組の組分けになります。次に8人1組とすると、3組だけ7人1組にすることで、最初の組の数より3組少ない組分けになります。学年全体の生徒は 人です。

(4) 一辺の長さが10 cm の正方形で同じ大きさの青色のタイルと黄色のタイルがあります。辺を共有するタイルは色が異なるものとして、横の長さが70 cm, 縦の長さが110 cm の敷地を敷き詰めることを考えます。左上のタイルが青色であったとき、黄色のタイルは全部で 枚必要です。

(5) AさんとAさんの父が、自宅から15 km 離れたキャンプ場に同じ道を通って向かいます。Aさんは自転車で12時ちょうどに、父は自動車で13時4分にそれぞれ自宅を出発しました。自転車、自動車の移動速度はそれぞれ時速12 km, 時速 km で一定であるとして、途中でAさんが運転する自転車がパンクして、Aさんは移動できなくなってしまいました。その場で父が通りかかるのを待ち、13時12分に合流しました。父の自動車で6分間で自転車を積み込み、同乗してキャンプ場に向かったところ、Aさんは予定より15分遅れで到着することができました。

(6) 2022 個の分数

$$\frac{2}{2024}, \frac{3}{2024}, \frac{4}{2024}, \dots, \frac{2022}{2024}, \frac{2023}{2024}$$

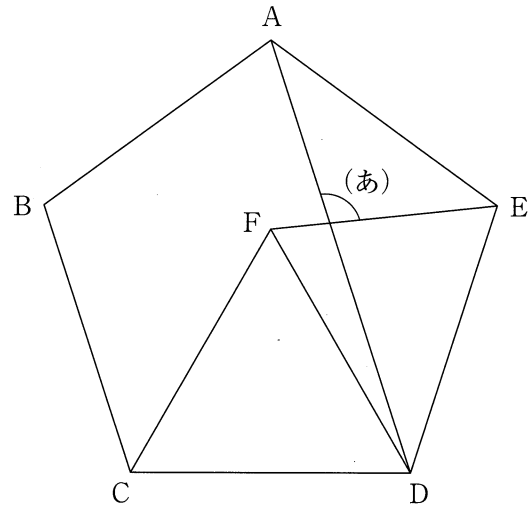
のうち、約分すると分子が1になる分数をすべてかけると、 $\frac{1}{A}$ となりました。

このとき、Aは4で 回割り切れます。ただし、 としてあてはまる整数のうち、もっとも大きい値を答えなさい。

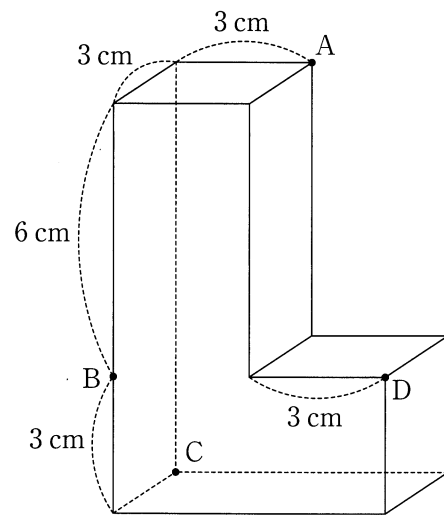
問題は次のページへ続きます。

2 次の にあてはまる数を答えなさい。

- (1) 正五角形 ABCDE と正三角形 CDF があり、A と D、E と F を結びました。
 図の(あ)の角の大きさは ° です。



- (2) 一辺の長さが 3 cm と 6 cm の長方形を底面とし、高さが 9 cm の直方体から、図のように、一辺の長さが 3 cm の正方形を底面とし高さが 6 cm の直方体を切り取って、立体 V をつくりました。点 A、B、C、D を結んでできる三角すいと立体 V の共通部分の体積は cm^3 です。ただし、角すいの体積は (底面積) \times (高さ) $\div 3$ で求められます。



計算用紙

※切りはなしてはいけません。

問題は次のページへ続きます。

- (3) 正方形 ABCD があり、西さんは図1のように、正方形 ABCD の辺 AB, BC, CD, DA を 3:1 に分ける点 E, F, G, H をとり、EF, FG, GH, HE を結びました。大和さんは図2のように、正方形 ABCD の内側に大きさの同じ小さな正方形 6 つを入れました。ただし、4 点 I, J, K, L は小さな正方形の頂点で、それぞれが正方形 ABCD の辺上にあります。三角形 EBF の面積が 72 cm^2 であるとしてます。

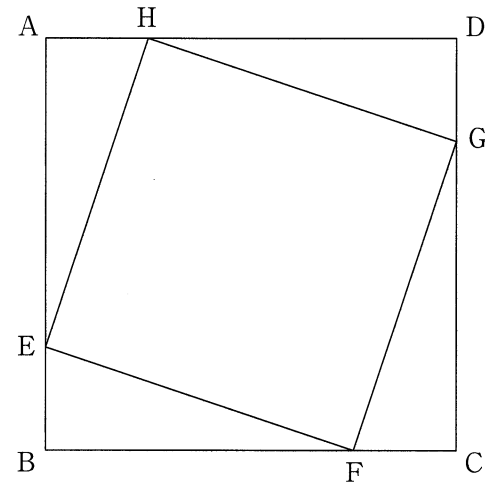


図 1

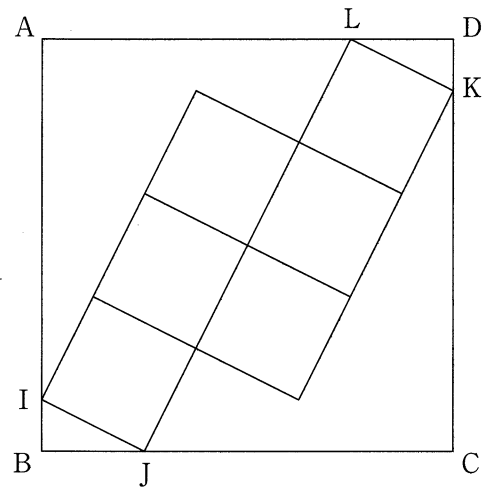


図 2

- (i) 正方形 ABCD の面積は cm^2 です。
- (ii) IB の長さと BJ の長さの比 $\frac{IB}{BJ}$ は です。
- (iii) 図 2 の小さな正方形 1 つの面積は cm^2 です。

計算用紙

※切りはなしてはいけません。

問題は次のページへ続きます。

3 次の にあてはまる数を答えなさい。

(1) 3828 や 5991 のように、4桁のうち2桁の数字が同じで、残りの2桁は相異なる数字でできた「2つかぶりの整数」を考えます。ただし、各位の数字は1から9までとします。
また、相異なる2桁の数字を入れ替える操作を操作 A とします。たとえば、3828 に操作 A をすると 2838 になります。

(i) 3828 のように、百の位と一の位が同じ数字である「2つかぶりの整数」【ア】を考えます。

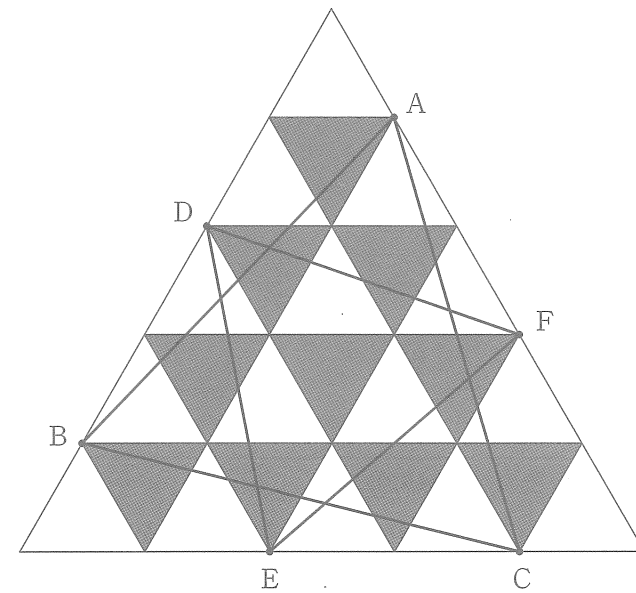
【ア】に操作 A をすると【ア】より小さい数【イ】になり、【ア】と【イ】の差は連続する4つの整数の積で表せる数になりました。【ア】として考えられる最大の数は あ です。ただし、連続する4つの整数の積で表せる数とは、 $5040 (= 7 \times 8 \times 9 \times 10)$ と、7から10までの連続する4つの整数の積になっている) のような数のことです。

(ii) 「2つかぶりの整数」【ウ】を考えます。【ウ】に操作 A をすると【ウ】より小さい数【エ】になり、【ウ】と【エ】の差は連続する4つの整数の積で表せる数になりました。【ウ】として考えられる最小の数は い です。

(2) 大きさの等しい白い正三角形15枚と黒い正三角形10枚を組み合わせて、図のような大きな正三角形をつくりました。点 A から F はそれぞれ小さな正三角形の頂点です。

(i) 三角形 ABC の中で、黒い部分の面積 B_1 と白い部分の面積 W_1 の比は $\frac{W_1}{B_1} =$ あ です。

(ii) 三角形 ABC と三角形 DEF が重なる部分において、黒い部分の面積 B_2 と白い部分の面積 W_2 の比は $\frac{W_2}{B_2} =$ い です。



問題は次のページへ続きます。

4 次のように、規則にしたがって表をかいていきます。

1	2
2	4

1 番目

1	2	3
2	4	6
3	6	9

2 番目

1	2	3	4
2	4	6	8
3	6	9	12
4	8	12	16

3 番目

1	2	3	4	5
2	4	6	8	10
3	6	9	12	15
4	8	12	16	20
5	10	15	20	25

4 番目
.....

たとえば、1 番目の表に現れている数すべての和は $1+2+2+4=9$ です。

(1) 6 番目の表に現れている数すべての和を求めなさい。

それぞれの表に対して、記号 $\langle X \rangle$, $\{ Y \}$ を次のように定めます。




図 1




図 2

$\langle X \rangle$: X 番目の表の対角線の数の和
 (図 1 の塗りつぶされた部分の和が $\langle 5 \rangle$ を表します。)
 $\{ Y \}$: Y 番目の表の対角線より右上にある数の和
 (図 2 の塗りつぶされた部分の和が $\{ 5 \}$ を表します。)

たとえば、

$$\langle 3 \rangle = 1+4+9+16=30,$$

$$\{ 3 \} = 1+2+3+4+4+6+8+9+12+16=65$$

となるので、3 番目に現れている数すべての和は ① と表すことができます。

(2) 空らん ① にあてはまる、記号 $\langle \quad \rangle$ と $\{ \quad \}$ を用いた式として正しいものを次のア. ~

エ. の中から選び、記号で答えなさい。

ア. $\{ 3 \} + \langle 3 \rangle$ イ. $2 \times \{ 3 \} + \langle 3 \rangle$

ウ. $\{ 3 \} - \langle 3 \rangle$ エ. $2 \times \{ 3 \} - \langle 3 \rangle$

1 から A までの数がかかれた玉①, ②, ..., ④が1つずつあり、この A 個の玉を横一列に並べます。また、左から 2 番目以降に並んでいる玉について、次の【性質】を考えます。

【性質】

自分より大きな数がかかれた玉が、自分より左側に少なくとも 1 個ある

たとえば、 $A=10$ のとき、10 個の玉が

② ① ③ ⑦ ⑤ ④ ⑧ ⑨ ⑩ ⑥

と並んだ場合、【性質】を満たす玉は①, ④, ⑤, ⑥の 4 個になります。

このとき、次の問いに答えなさい。

(3) $A=10$ のとき、【性質】を満たす玉がちょうど 1 個だけになるような並べ方は何通りありますか。

(4) $A=10$ のとき、【性質】を満たす玉が③と④だけになるような並べ方は何通りありますか。

(5) $A=7$ のとき、【性質】を満たす玉がちょうど 2 個だけになるような並べ方は何通りありますか。

(6) $A=12$ のとき、【性質】を満たす玉がちょうど 2 個だけになるような並べ方は何通りありますか。

問題は以上です。

算数解答用紙



240114-30

↓ここにシールを貼ってください↓

受験番号	氏名

※のらんには何も書かないこと。

1	(1)	(2)	(3)	※
	(4)	(5)	(6)	
2	(1)	(2)	/	※
	(3)		/	
	あ	い		
3	(1)		(2)	※
	あ	い	あ	
	(2)	/		
	い			
4	(1)	(2)	(3)	
			通り	
	(4)	(5)	(6)	
	通り	通り	通り	

※